



جمهورية العراق  
وزارة التعليم العالي والبحث العلمي  
جامعة البصرة  
كلية الإدارة والاقتصاد  
قسم نظم المعلومات الادارية



أسئلة الامتحان النهائي للعام الدراسي ٢٠٢٤ - ٢٠٢٥ - الفصل الأول - الدور (الاول)

الزمن: ساعتان

التاريخ ١٤ / ٢ / ٢٠٢٥

صباحي ومسابي

المرحلة: الاولى

المادة: إدارة الأعمال

ملاحظة: الإجابة عن اربعة أسئلة فقط على ان يكون السؤال الأول من ضمنها.

س١ / ضع كلمة صح امام العبارة الصحيحة وكلمة خطأ امام العبارة الخاطئة مع تصحيح الخطأ أينما وجد (١٤ درجة)

- ١- ان كتابة السيناريوهات هو أسلوب يأخذ بنظر الاعتبار حصول احداث في الأمد البعيد تمثل خيارات ممكنة الحصول.
- ٢- يعتبر الهدف الجيد هو الذي لايرتبط بفترة زمنية لتنفيذه وانما يترك ذلك للكادر.
- ٣- يقترح مدخل النظم ان كل منظمة يمكن اعتبارها نظاما منفردا في خصائصه وبيئته ولذلك لايمكن تعميم طرق شاملة للنجاح.
- ٤- تعتبر مرحلة وضع الأهداف من أسهل المراحل على المنظمة في نظام الإدارة بالأهداف حيث ان المنظمة لم تبدأ بعد بالتنفيذ والمدير الأعلى هو من يضع هذه الأهداف.
- ٥- ان المرحلة الأولى من مراحل التعامل مع الازمة هو وضع خطة طوارئ.
- ٦- ان المعيار الذي يحدد ان البيئة خارجية ام داخلية هو مقدار التأثير المباشر او غير المباشر للبيئة.
- ٧- ان طبيعة العلاقة بين الهيكل التنظيمي و نطاق الاشراف المعتمد في المنظمة هي علاقة طردية.

س٢ / اختر الإجابات الصحيحة: (كتابة الحرف والاختيار بالكامل) (١٢ درجة)

- ١- ان التغيرات الكبيرة و عدم التأكد العالي يرتبط ب :  
أ- المركزية ب- اللامركزية ج- التخصص الوظيفي د- مكافأة عدم الكفاءة
- ٢- ان تحديد المسؤوليات الفردية المرتبطة بوظيفة معينة هو ما يدعى:  
أ- هوية المهمة ب- اغناء الوظيفة ج- تصميم الوظيفة د- ليس أي مما ذكر
- ٣- عندما يؤدي المرؤوسين اعمالاً تتسم بالثبات و الاستقرار فان نطاق الاشراف يكون :  
أ- نطاق واسع ب- نطاق ضيق ج- نطاق معتدل د- ليس له علاقة
- ٤- ان المنظمة التي تستغل مواردها افضل من استغلال لكنها لا تحقق أهدافها هي منظمة:  
أ- فاعلة ولكن غير كفوءة ب- كفوءة ولكن غير فاعلة ج- انتاجيتها عالية د- ليست فاعلة ولا كفوءة
- ٥- ان التخطيط هو عملية مستمرة تؤدي مهمتين أساسيتين هما توضيح حدود الأداء المطلوب و :  
أ- تعزيز الطرق لإنجازه ب- دعم المدير وحده ج- اختيار أفضل البدائل د- ليس أي مما ذكر
- ٦- عندما يركز المدير على الإنتاجية ويحفز العاملين ماديا فقط فان تفكيره يقع ضمن:  
أ- اتجاه الإدارة العلمية ب- اتجاه العمليات الادارية ج- اتجاه البيروقراطية د- ليس أي مما ذكر

(١٢ درجة)

س٣ / بين بالرسم كل مما يأتي:

- ١- مراحل العملية التخطيطية.
- ٢- مكونات البيئة.

(١٢ درجة)

س٤ / اجب عن أحد الفرعين:


- أ- قارن بين مزايا وعيوب نظام MBO.
- ب- قارن بين مزايا وعيوب الهيكل المصفوفي.


(١٢ درجة)


س٥ / عرف كل من المصطلحات الآتية:


القيادة	رسالة المنظمة	الخطة الموقفية
الإدارة	الهيكل الرسمي	التفويض

مع امنياتنا لكم بالتوفيق والنجاح

  
العلميد  
د.أ.د. عبد الحسين توفيق

  
رئيس القسم  
د. جواد اجباري

  
مدرس المادة  
م.م. محمد هاشم

  
مدرس المادة  
د. عبدالرحمن عبدالله



جمهورية العراق  
وزارة التعليم العالي والبحث العلمي  
جامعة البصرة  
كلية الإدارة والاقتصاد  
قسم نظم المعلومات الادارية



أسئلة الامتحان النهائي للعام الدراسي ٢٠٢٤ - ٢٠٢٥ - الفصل الأول - الدور ( الأول )  
المادة: اساسيات نظم المعلومات الادارية المرحلة: الأولى صباحي ومسائي التاريخ: ٢٠٢٥ / ٧ / ٢٠ الزمن: ساعتان

ملاحظة: الإجابة عن اربعة أسئلة فقط على ان يكون السؤال الأول من ضمنها

السؤال الأول الاجابة عنه اجباريا وليس اختياريا

س١ / اختر الإجابات الصحيحة: (كتابة الحرف والاختيار بالكامل) (١٤ درجة)

- ١- هي الحصيلة النهائية لاستخدام المعلومات من قبل صناع القرار والمستخدمين :  
أ- البيانات ب- المعلومات ج- المعرفة
- ٢- من الأنظمة التالية لا تتصل بالبيئة الخارجية و ينحصر عملها فيما يوجد بداخل النظام فقط :  
أ- النظم المفتوحة ب- النظم المغلقة ج- نظم شبه مغلقة
- ٣- ماهو الدور الرئيسي لنظم الدعم العملياتي في المنظمة:  
أ- دعم التخطيط الاستراتيجي للمنظمة ب- معالجة الصفقات بكفاءة والرقابة على العمليات الصناعية  
ج- معالجة المعلومات للإدارة لغرض اتخاذ القرارات
- ٤- اي من الخيارات التالية يصف بدقة وظيفة النظام الفرعي لمعلومات العمليات :  
أ- نظام فرعي متخصص في معلومات الإنتاج فقط ب- حزمة متكاملة من النظم القرعية تغطي معلومات متنوعه مثل المنتج و الإنتاج  
ج- نظام يقتصر على انتاج تقارير حول بحوث تطوير المنتج فقط
- ٥- ماهو العنصر الأساسي الذي يميز نظم دعم القرار عن الانظمة :  
أ- توفير واجهات مستخدم تفاعلية ب- التركيز على البيانات وتدققها ج- التركيز على دعم اتخاذ القرارات
- ٦- ماهي المشكلة الإدارية التي تمثل جوهر الحاجة لأتشاء نظم المعلومات الإدارية :  
أ- نقص الموارد المالية ب- صعوبة اتخاذ القرارات لتوزيع الموارد المحدودة في ظل ظروف غير مستقرة  
ج- نقص المعلومات الادارية
- ٧- تعتبر تحسين الكفاءة و سهولة التحول و زيادة القيمة المضافة من العناصر التابعة الى :  
أ- اهداف نظم المعلومات ب- خصائص نظم المعلومات ج- فوائد نظم المعلومات
- ٨- تربط الشركة داخليا و خارجيا وتعد من اهم الموارد التي تربط الوحدات الداخلية بقواعد البيانات و التطبيقات المختلفة:  
أ- موارد الشبكات ب- البنية الرئيسية للشبكات ج- وسائط الاتصالات
- ٩- في هذه الحقبة بدأ في الظهور مصطلح نظم المعلومات الإدارية (MIS):  
أ- 1980-1990 ب- 1960-1970 ج- 1950-1960
- ١٠- أي من المستويات الإدارية التالية يهتم بالخطط التفصيلية و البرامج التنفيذية للعمل اليومي :  
أ- الإدارة العليا ب- الإدارة الوسطى ج- الإدارة الدنيا المباشرة
- ١١- اختلف المنظرين في تقسيمات نظم المعلومات وتعريفاتها ولكن الجميع اتفق على :  
أ- تقسيمات الدعم المعلوماتي ب- أهمية نظم المعلومات في المؤسسات ج- تقسيم وتصنيف محدد حسب نوع الدعم و المستوى الإداري الذي تعمل فيه
- ١٢- من تطبيقات المهارات الدنيا في نظم المعلومات هي :  
أ- استخدام الحواسيب في الاعمال المكتبية ب- استخدام الانسان الالي في نقل المواد ج- دعم القرارات DSS
- ١٣- أي نوع من نظم المعلومات يقوم بمعالجة البيانات التي تنتجها وتستخدمها الشركة في الرقابة والتحكم :  
أ- نظم الدعم العملياتي ب- نظم الدعم الاداري ج- نظم المعلومات الاستراتيجية
- ١٤- ماهي الميزة الرئيسية التي تتميز بها نظم دعم القرارات عن نظم التقارير المعلوماتية :  
أ- توفر تقارير مسبقة التصميم ب- دعم القرارات غير المهيكله ج- التركيز على البيانات المنتجة من العمليات

س ١٢ / ضع كلمة صح امام العبارة الصحيحة وكلمة خطأ امام العبارة الخاطئة مع تصحيح الخطأ أينما وجد (١٢ درجة)

- ١- المعالجة الفورية تعني ان البيانات ترسل على شكل دفعات في نهاية اليوم الى المركز الرئيسي.
- ٢- يعتبر نظام الحجز المركزي ( حجز تذاكر السفر ) هو مثال على تطبيق نظام دعم القرار.
- ٣- تقوم أنظمة الدعم الإداري بتطوير العمل وتحويله من عمل يدوي الى عمل الي محوسب.
- ٤- يركز المدخل التقني لنظم المعلومات على النماذج الرياضية وكذلك على التقنية الطبيعية والامكانيات الشكلية لهذه الأنظمة .
- ٥- البيانات هي معلومات منظمة تمت معالجتها و تحليلها .
- ٦- نظم إدارة المعرفة هي نظم تفاعلية تربط نظم دعم القرار بالذكاء الصناعي .

(١٢ درجة)

س ١٣ / بين بالرسم كل مما يأتي:

- ١- تدفق البيانات والمعلومات عند المستويات الإدارية المختلفة مع الشرح باختصار.
- ٢- تقسيم نظم المعلومات بحسب المستويات الإدارية في الشركة بدون شرح اسفل الرسم.

(١٢ درجة)

س ١٤ / اجب عن أحد الفرعين:

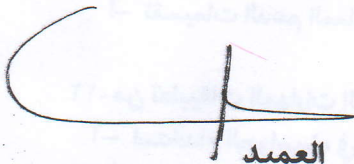
- أ- عدد ٥ من فوائد نظام المعلومات.
- ب- عدد أسباب نشأة نظم المعلومات الإدارية مع شرح مبسط لكل سبب من الأسباب .

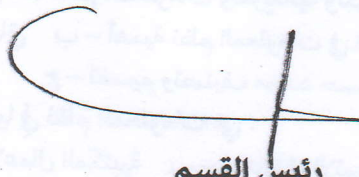
(١٢ درجة)


س ١٥ / عرف كل من المصطلحات الآتية:


نظم النكاه الصناعي	نظم أتمتة العمل المكثبي	التعريف الشامل لنظم المعلومات
نظم دعم القرار الجماعي	الإدارة التنفيذية (الوسطى)	الرقابة

مع امنياتنا لكم بالتوفيق والنجاح

  
العميد  
أ.د. عبد الحسين توفيق

  
رئيس القسم  
د. جواد اجباري

  
مدرس المادة  
م.م الحسن علي العطار



جمهورية العراق  
وزارة التعليم العالي والبحث العلمي  
جامعة البصرة  
كلية الإدارة والاقتصاد  
قسم نظم المعلومات الادارية



أسئلة الامتحان النهائي للعام الدراسي ٢٠٢٤ - ٢٠٢٥ - الفصل الأول - الدور الأول  
المادة: اللغة العربية المرحلة: الأولى صباهي و مسائي التاريخ ٢٠٢٥ / ٩ / ١٩ الزمن: ساعتان

« ملاحظة: أجب عن خمسة أسئلة فقط، لكل سؤال (١٠ درجات)

س١/ أعرّب ما تحته خط إعراباً مفضلاً .

١. قال تعالى: ﴿ إِنَّ السَّاعَةَ آتِيَةٌ أَكَادُ أَخْفِيهَا ﴾ .

٢. قال تعالى: ﴿ وَخُلِقَ الْإِنْسَانُ ضَعِيفًا ﴾ .

س٢/ أ. أجب عمّا يأتي :

١. يتكون الفريق من ١١ لاعباً .. اكتب العدد (١١) مضبوطاً بالشكل .

٢. الكتابُ في الحقيقة .. استخرج المبتدأ والخبر، مع بيان نوع الخبر .

ب. مثل لما يأتي بجمل تامة مضبوطة بالشكل .

١. اسم إشارة في محل رفع مبتدأ .

٢. فعل ناسخ يفيد الاستمرار .

٣. جمع مؤنث سالم منصوب .

س٣/ اختر الإجابة الصحيحة من بين الأقوس لما يأتي :

١. ﴿ إِذَا جَاءَ نَصْرُ اللَّهِ وَالْفَتْحُ ﴾ ، كلمة الفَتْحُ اسم لأنها .....

( سُبِقَتْ بِعَطْفٍ ، قَبُولِهَا لِالتَّعْرِيفِ ، لِأشْيَاءٍ مِمَّا سَبَقَ )

٢. ﴿ أَدْعُ إِلَى سَبِيلِ رَبِّكَ بِالْحُكْمِ ﴾ ، أَدْعُ: فعل أمر مبني على .....

( السكون ، حذف حرف العلة ، الضمة )

٣. من علامات الفعل الماضي قبوله .....

( نون التوكيد الخفيفة ، لم الجازمة ، تاء التأنيث الساكنة )

٤. حروف المعاني: هي الحروف التي يظهر معناها .....

( في الجملة ، في الفعل ، في الاسم )

٥. تُنْصَبُ الأَسْمَاءُ الخمسة وعلامة نصبها .....

( الألف ، الواو ، الياء )

س٤/ اذكر مواضع كتابة التاء في الأفعال، مع التمثيل .

س٥/ ما مناسبة قصيدة الفرزدق؟ ولمّ لَقِبَ ب(الفرزدق)؟ وبمّ اقترن اسمه، ثم اكتب خمسة أبيات منها .

س٦/ قال الشاعر: أنا الذي نظرت الأعمى إلى أدبي وأسَمَعَتْ كَلِمَاتِي مَنْ بِهِ صَمَمٌ

منّ القائل؟ وبمّ عُرِفَ، ولمّ، وما مميزات شعره؟ اكتب أربعة أبيات من قصيدته بعد البيت أعلاه .

إجابة موفقة أرجوها لكم



جمهورية العراق  
وزارة التعليم العالي والبحث العلمي  
جامعة البصرة  
كلية الإدارة والاقتصاد  
قسم نظم المعلومات الادارية



أسئلة الامتحان النهائي للعام الدراسي ٢٠٢٤-٢٠٢٥ - الفصل الاول- الدور (١/٧)  
المادة : مبادئ الاقتصاد..... المرحلة : الاولى ..... التاريخ /٢٠٢٥ ..... الزمن : ساعتان

ملاحظة: الإجابة عن خمسة أسئلة و لكل سؤال (١٠ درجات)

س١: اختار الاجابة الصحيحة لكل مما يأتي:-

- ١- ان العبارة التي تعبر عن علاقة علم الاقتصاد بعلم الاجتماع هي:  
أ-دراسة تأثير التضخم على النمو الاقتصادي ب- تحليل انتشار الجريمة بسبب البطالة ج- تحديد اساليب الانتاج د- دراسة العلاقات الاجتماعية للإنتاج
- ٢- ان ارتفاع دخل شخص من (٤٠٠) دينار الى (٦٠٠) دينار يؤدي الى زيادة الكمية المطلوبة من سلعه ما من (٢٠) وحدة الى (٤٠) وحدة فان معامل المرونة يساوي  
أ- ٢٠ والطلب مرن ب- ٢ والطلب مرن ج- ٠,٢ والطلب غير مرن د- ٣ والطلب عديم المرونة
- ٣- ان الانخفاض في سعر سلعة ما عندما يكون الطلب عليها غير مرن يؤدي الى ان الانفاق الكلي .  
أ- يزيد ب- ينقص ج- يكون سالب د- يبقى دون تغير
- ٤- شكل منحنى الطلب لسلعة عديمة المرونة يأخذ شكل  
أ- عمودي ب- أفقي ج- سالب الميل د منبسط تماماً
- ٥- التكاليف الحدية هي  
أ- حاصل قسمة التكاليف الكلية على كمية الانتاج الكلية.  
ب- حاصل قسمة التكاليف الثابتة على عدد الوحدات المنتجة.  
ت- حاصل قسمة التكاليف المتوسطة على عدد الفترات الزمنية التي يتم فيها الانتاج.  
ث- حاصل قسمة التكاليف الكلية والثابتة والمتغيرة على كمية الانتاج الكلية.
- ٦- إذا كان التغير في السعر يؤدي إلى تغير الكمية المطلوبة ومعامل المرونة يساوي واحد.  
الطلب متكافئ المرونة ب- الطلب المرن ج- الطلب عديم المرونة
- ٧- الاقتصاد الجزئي يتناول سلوك الأفراد مستهلكين أو منتجين. أ- صح ب- خطأ ج- الاقتصاد الكلي
- ٨- العبارة التالية تمثل جوهر المشكلة الاقتصادية :  
أ- التوزيع العادل للثروة ب- الندرة النسبية للموارد ج- التضخم والبطالة د- زيادة الانتاج
- ٩- في نظام المشروع الحر، يتم حل المشكلة الاقتصادية من خلال :  
أ- سلطة التخطيط المركزية ب- آلية الاسعار ج- توزيع الثروة العادل د- تدخل الدولة في النشاط الاقتصادي
- ١٠- مرونة العرض تساوي (١) عدد صحيح اذا كان :  
أ- منحنى العرض خطا موازيا للمحور الافقي  
ب- منحنى العرض خطا يقطع المحور الرأسي  
ج- منحنى العرض خطا موازيا للمحور الرأسي  
د- منحنى العرض خطا منبثقا عن نقطة الاصل

س ٢: أ- إذا علمت ان الكمية المطلوبة من سلعة معينة زادت بنسبة ٥% نتيجة انخفاض السعر بنسبة ١٠% احسب المرونة السعرية؟ وحدد نوع الطلب؟

ب- إذا ارتفع دخل شخص ما من (٤٠٠) دينار إلى (٦٠٠) وأدى ذلك إلى زيادة الكمية المطلوبة من سلعة ما من ٢٠ وحدة إلى ٤٠ وحدة اوجد معامل المرونة؟ ونوع الطلب؟ ونوع السلعة؟

س ٣: إذا كان لديك الجدول التالي الذي يوضح الإنتاج والتكاليف الثابتة والتكاليف المتغيرة لمؤسسة صناعية تعمل في المدى القصير:

الناتج الكلي	٠	١	٢	٣	٤	٥	٦	٧	٨	٩	١٠
التكاليف الثابتة	٦٠	٦٠	٦٠	٦٠	٦٠	٦٠	٦٠	٦٠	٦٠	٦٠	٦٠
التكاليف المتغيرة	٠	٦	٨	١٠	١٢	١٦	٣٠	٧٢	١٣٣	٢٢٤	٥٢٠

المطلوب ١. اوجد التكاليف الكلية لهذه المؤسسة.

٢. اوجد متوسط التكاليف لهذه المؤسسة (الثابتة، المتغيرة، الكلية) وكذلك التكاليف الحدية.

٣. ارسم منحنيات التكاليف الكلية والثابتة والمتغيرة.

٤. من خلال الجدول والرسم البياني وضح العلاقات المختلفة بين منحنيات التكاليف.

س ٤: هناك نظريتان رئيستان في تحليل سلوك المستهلك وكلا النظريتين تقومان على فكرة المنفعة ولكن تختلفان في الافتراضات والأدوات التحليلية المستخدمة. ومن هذه النظريات هي نظرية منحنيات السواء فما هو مفهوم نظرية منحنيات السواء؟ وما هي الافتراضات التي تقوم عليها؟ وما هي خصائص منحنيات السواء؟

س ٥: الإجابة عن الفرعيين

أ- ما هو مفهوم العرض؟ وما هي العوامل المحددة للعرض؟ عددها مع التوضيح لكل عامل من هذه العوامل؟

ب- إذا انخفض سعر سلعة معينة من ١٢٥ دينار إلى ١٠٠ دينار وأدى ذلك إلى انخفاض الكمية المطلوبة من ١٢٥٠ وحدة إلى ١٠٠٠ وحدة فما هو معامل مرونة العرض؟ ونوع العرض؟ ولماذا؟

س ٦: الإجابة عن الفرعيين

أ- ما هو مفهوم المنفعة الكلية وما هو مفهوم المنفعة الحدية؟

ب- إذا توفرت لديك المعلومات الآتية

الوحدات المستهلكة	٠	١	٢	٣	٤	٥	٦	٧	٨	٩	١٠
المنفعة الكلية	٠	٢٠	٣٦	٤٨	٥٦	٦٠	٦٠	٥٠	٤٨	٤٦	٤٤
المنفعة الحدية											

المطلوب / ١- استخراج المنفعة الحدية لمستويات الاستهلاك المختلفة.

٢- مثل بيانيا كل من المنفعة الكلية والمنفعة الحدية.

٣- فسّر سلوك كل من المنفعة الكلية والمنفعة الحدية.

مع امنياتي لكم بالتوفيق والنجاح

المعيد

أ.د. عبد الحسين توفيق شبلبي

رئيس القسم

م.د. جواد جباري عبدال

مدرس المادة

أ.م.د. سكره جهيه فرج



جمهورية العراق  
وزارة التعليم العالي والبحث العلمي  
جامعة البصرة  
كلية الإدارة والاقتصاد  
قسم نظم المعلومات الادارية



أسئلة الامتحان النهائي للعام الدراسي 2024-2025 - الفصل الأول - الدور ( الأول )  
المادة: مبادئ الاحصاء المرحلة: الاولى صباحي ومسائي التاريخ / / 2025 الزمن: ساعتان

ملاحظة: الإجابة على أربعة أسئلة فقط على ان يكون السؤال الأول من ضمن الإجابة

س1/ الجدول التالي يبين درجات 50 طالب في احد الدروس وكانت كالتالي

المطلوب

1. عدد الطلبة الحاصلين على درجة اقل من 96
2. عدد الطلبة الحاصلين على درجة اكثر من 96
3. احسب الوسيط للبيانات اعلاه
4. احسب المنوال

التكرار	6	8	6	12	4	4	2	6	2
الدرجة	90-91	91-92	92-93	93-94	94-95	95-96	96-97	97-98	98-99

س2/ املاء الفراغات التالية

1. المقياس الذي لا يستخدم كل البيانات عند حسابه هو .....
2. تؤثر القيم الشاذة عند حساب .....
3. الانحراف المعياري للقيم 5,5,5,5 هو .....
4. الوسيط للقيم 16 4 8 2 3 9 هو .....
5. اذا كان الوسيط الحسابي لمجموعه من القيم هو 20 و ضربنا كل قيمة من قيمه في 2 فان الوسيط الحسابي الجديد سيكون .....
6. احد مقاييس النزعه المركزيه يستخدم في حالة البيانات النوعيه هو .....
7. اذا كان متوسط 4 ارقام هو 20 فان مجموع الارقام هو .....

س3/ رتب البيانات التالية في جدول توزيع تكراري اذا علمت ان هذه البيانات تمثل أوزان (20) طالب استخدم طول

الفئه 4

33	32	43	45	29	37	38	57	25	17
24	23	27	51	60	55	27	51	44	47

س 4/ احسب معامل الارتباط بيرسون بين المتغيرين  $x$  و  $y$  ثم حدد نوع ارتباط:

$$X = 3, 2, 4, 4, 5, 6 \quad Y = 5, 5, 10, 8, 5, 9$$

$$\text{إذا علمت أن } \sum x^2 = 106 \text{ و } \sum y^2 = 320$$

س 5/ اوجد التباين والانحراف المعياري لبيانات جدول التوزيع التكراري التالي.

الفئات	2-4	4-6	6-8	8-10	10-12	12-14	14-16	المجموع
التكرار	10	5	20	15	5	10	25	90

مع امنياتنا لكم بالتوفيق والنجاح

العميد


أ.د. عبد الحسين توفيق

رئيس القسم

د. جواد اجباري

مدرس المادة

ا.م.د. وليد مية رودين  
م.م نور علي صعيجل





جمهورية العراق  
وزارة التعليم العالي والبحث العلمي  
جامعة البصرة  
كلية الإدارة والاقتصاد  
قسم نظم المعلومات الادارية



أسئلة الامتحان النهائي للعام الدراسي ٢٠٢٤-٢٠٢٥ - الفصل الاول - الدور ( الأول )  
المادة : حقوق الانسان والديمقراطية المرحلة : الاولى صباحي و مسائي التاريخ ٢٠٢٥ / ٢٠٢٥ / ٢٠٢٥ :ساعتان

ملاحظة: الإجابة عن خمس أسئلة فقط لكل سؤال (١٠) درجة

س ١ / اختر الإجابة الصحيحة لخمس فقط:

١- تعود جذور الديمقراطية في عصر الحضارة اليونانية الى :

أ- سقراط ب- ارسطو ج- افلاطون د- لاشئ مما ذكر

٢- يعتبر من اهم مطالب الحريات الاقتصادية:

أ-حق العمل ب- حق الاضراب ج- حق التملك د- كل ما ذكر

٣- من اهم مرتكزات حرية الرأي والدين:

أ-الحق في الحياة ب- عدم الاكراه ج- حق التعلم د- كل ما ذكر

٤- تسمى بجيل الحقوق وهي تلك الحقوق التي تقتضيها طبيعة الحياة المعاصرة تسمى :

أ- مدنية وسياسية ب- طائفة التعاون ج- طائفة التضامن د- كل ما ذكر

٥- من انواع حقوق الأنسان :

أ- الحقوق الفردية ب- الحقوق الشاملة ج-الحقوق الكاملة د- ليس ما ذكر

٦- من أنواع الحقوق المدنية:

أ- حق التعلم ب- الحق في الحياه ج- حق المساواة امام القانون د- كل ما ذكر

س ٢ / أجب بعلامة ( صح ) أو ( خطأ ) ثم صحح الخطأ أن وجد :

١- حقوق الإنسان موجودة حكماً لا بموجب إقرارها من قبل سلطة تشريعية أو دستورية أو حتى سلطات

أخرى .

٢- أن الحقوق المرتبطة بالحريات اللازمة لكل فرد هي الحقوق المدنية والسياسية.

٣- من أبرز الحقوق التي كفلها الإسلام للناس جميعاً هي الحقوق العامة والتي تشمل حقوق المرأة والطفل والمسنة والرفيق

٤- أكد التشريع الإسلامي على أن العدالة مبدأ رئيسي وأساس في الإسلام حيث يعتبر أن جميع الناس سواء وأن لا فرق بينهم في الأحكام .

٥- حقوق الإنسان غير شاملة وتقبل الإلغاء والتعديل.

س ٣ / أ- كفل التشريع الإسلامي الحقوق الأساسية وغير الأساسية لأهميتها في حقوق الإنسان أشرح ذلك معزراً  
أجابتك بتعريف مفهوم حقوق الإنسان.

ب- تنوعت أنماط الحكم في حضارة وادي النيل وكانت على عدة مراحل اذكرها بالتفصيل.

س ٤ / أ- أشرح دور الحضارة الرومانية واليونانية في ميدان حقوق الإنسان.

ب- اذكر أهم الحقوق السياسية المتعلقة بعملية الممارسة الديمقراطية.


س ٥ / للحقوق والحريات ضمانات على الصعيد الوطني داخل الدولة عدد هذه الضمانات وأشرحها.


س ٦ / أجب عن أحد الفرعين:

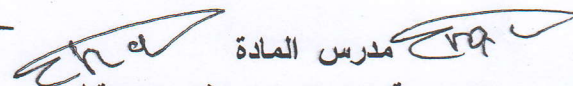
أ- بين أهم مميزات وخصائص حقوق الإنسان في الإسلام.

ب- اذكر خمس فقط لأهم ماورد في الإعلان عن الجمعية العامة للأمم المتحدة بشأن الألفية ٢٠٠٠.

مع امنياتنا لكم بالتوفيق والنجاح

  
العميد  
س/أ.د. عبد الحسين توفيق شبلي

  
رئيس القسم  
م.د جواد اجباري عبدال

  
مدرس المادة  
د. مروة محسن م.م نرجس عقيل